

40x5 TYT

COĞRAFYA

Denemeleri

ALİM KILIÇ
MURAT BAYRAKDAR
VEYSEL GÜL



KAZANIM ANALİZ
TABLOSU

ÖSYM
ÖSYM TARZI
YENİ SORULAR

VIDEO ÇÖZÜMLÜ



HIZ VE RENK

1

Hız ve Renk Branş Denemeleri sınavdan önce hatalarınızı görebilmeniz ve eksiklerinizi giderebilmeniz için sizlere büyük bir imkan sunuyor.

2

Denemeyi uyguladıktan sonra, denemelerin başında bulunan "kazanım tablosundan" yanlış yaptığınız ya da boş bıraktığınız soruların konularını tespit edebilirsiniz.

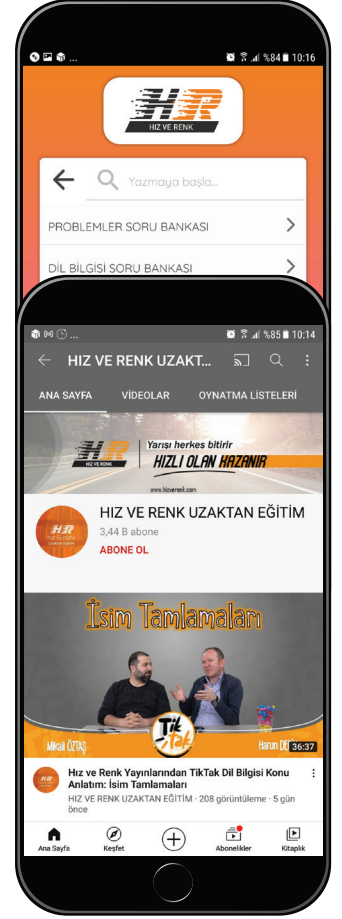
3

Hız ve Renk Uzaktan Eğitim Kanalı'nda konu anlatımı ve daha fazlasını bulacaksınız.



4

Hız ve Renk uygulamasından ya da Hız ve Renk yayınları web sayfasından soru çözüm videolarını Hız ve Renk yazarlarından dinleyebilirsiniz.



01

ÖĞRETMEN ÜYELİĞİ SEÇİMİ İLE SİSTEME ÜYELİK FORMUNU DOLDURUNUZ.

02

SİSTEME GİRİŞ YAPARAK DİJİTAL İÇERİKLERİNİZİ İSTEDİĞİNİZ YERE İNDİREBİLİRSİNİZ.

03

İNTERNETE BAĞLI OLSUN VEYA OLMASIN DİLEDİĞİNİZ PLATFORMLARDA İÇERİKLERİMİZİ KULLANABİLİRSİNİZ.

04

İSTEDİĞİNİZ SORULARLA KENDİ TESTİNİZİ OLUŞTURABİLİRSİNİZ.


www.lisedestek.com

✓ Ücretsiz Öğrenci – Öğretmen Üyeligi

✓ Akıllı Tahta Uygulamaları (Bilgisayar - Tablet - Telefon)

✓ Kolay Erişilebilir Dijital İçerik

✓ Müfredata Uygun Soru Havuzu





Copyright © Bu kitabın her hakkı saklıdır.

Hangi amaçla olursa olsun, bu kitabın tamamının ya da bir kısmının, kitabı yayımlayan yayınevinin önceden izni olmaksızın elektronik, mekanik, fotokopi ya da herhangi bir kayıt sistemi ile çoğaltılması, yayımlanması ve depolanması yasaktır.



www.hizrenk.com



hizrenk@isler.com.tr



[@hizverenk](https://www.instagram.com/hizverenk)

Değerli Üniversite Adayları,

Üniversite hazırlıkta eksikleri tespit etmek, bu eksikleri giderecek bir anlayışla konu tekrarı yapmak ve çalışmalarını buna göre planlamak başarılı bir sonuç almanın temel prensibidir. Sınav maratonunda özellikle “Deneme Sınavları” çalışmalarınızın sonuçları ve durumunuz hakkında size en net bilgileri veren kaynaklardır.

Hız ve Renk Yayınları Branş Denemeleri, çalışmanız ve tekrar etmeniz gereken konuları belirleyebilmeniz, eksiklerinizi giderebilmeniz için sizlere yardımcı olmak amacıyla her denemeye “Konu Analiz Tablosu” ilave edilerek hazırlanmıştır.

Yanlış yaptığınız ya da boş bıraktığınız sorulardan hareketle “Konu Analiz Tablosu”ndan eksiklerinizi belirleyerek çalışmanız gereken konuları tespit edebilirsiniz. Bu analiz ve tespitler netlerinizin düzenli bir şekilde artmasında önemli bir yere sahiptir. Her denemeden sonra “Konu Analiz Tablosu”nu doldurmayı bir alışkanlık hâline getirmeniz, başarınızın katlanmasını ve devamlılığını sağlayacaktır.

Başarılarınızda pay sahibi olabilmek HIZ VE RENK YAYINLARI olarak bizim en büyük mutluluğumuz olacaktır.

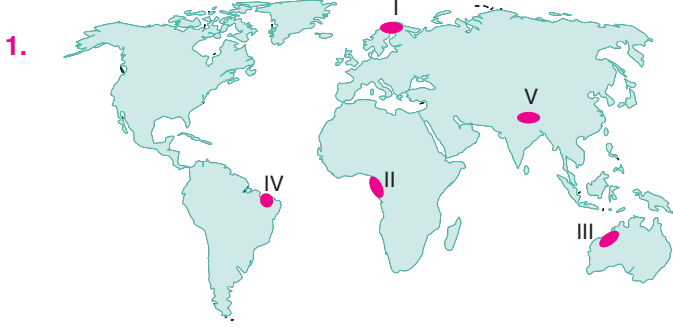
Başarılı ve sağlıklı bir ömür dileğiyle...

HIZ VE RENK YAYINLARI

İÇİNDEKİLER

	Sayfa
MAVİ HIZ DENEMELERİ	
1. DENEME	7
2. DENEME	9
3. DENEME	11
4. DENEME	13
5. DENEME	15
6. DENEME	17
7. DENEME	19
8. DENEME	21
9. DENEME	23
10. DENEME	25
KIRMIZI HIZ DENEMELERİ	
1. DENEME	29
2. DENEME	31
3. DENEME	33
4. DENEME	35
5. DENEME	37
6. DENEME	39
7. DENEME	41
8. DENEME	43
9. DENEME	45
10. DENEME	47
TURUNCU HIZ DENEMELERİ	
1. DENEME	53
2. DENEME	55
3. DENEME	57
4. DENEME	59
5. DENEME	61
6. DENEME	63
7. DENEME	65
8. DENEME	67
9. DENEME	69
10. DENEME	71
11. DENEME	73
12. DENEME	75
13. DENEME	77
14. DENEME	79
15. DENEME	81
16. DENEME	83
17. DENEME	85
18. DENEME	87
19. DENEME	89
20. DENEME	91
CEVAP ANAHTARI	93

1. Bu testte 5 soru vardır.
2. Cevaplarınızı, cevap kâğıdının Coğrafya Testi için ayrılan kısmına işaretleyiniz.



Haritada taralı olarak gösterilen bölgelerden hangisinde nüfus ve yerleşmenin seyrek olmasının nedeni yanlış verilmiş?

Bölge	Nedeni
A) I	İklimin soğuk ve tarıma elverişsiz olması
B) II	Sıcaklık ve nem değerlerinin çok yüksek olması
C) III	Sıcak ve kurak iklim koşullarının yaşanması
D) IV	Jeolojik kökenli doğal afetlerin yaygın olması
E) V	Dağlık ve engebeli olması

2. Türkiye hidroelektrik enerji potansiyeli bakımından Avrupa'da Rusya ve Norveç'ten sonra üçüncü sırada yer alır.

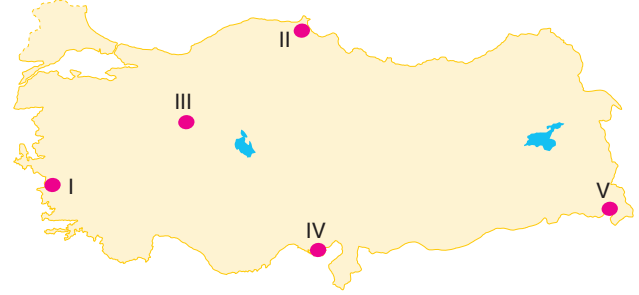
Bu durum üzerinde;

- akarsuların debilerinin yüksek olması,
- yer şekillerinin engebeli, ortalama yükseltinin fazla olması,
- akarsuların dar ve derin vadilerde akması

faktörlerinden hangilerinin etkisi yoktur?

- A) Yalnız I B) Yalnız II C) I ve III
D) II ve III E) I, II ve III

3. Coğrafya öğretmeni Berna Hanım akıllı tahtada numaralandırdığı aşağıdaki Türkiye haritasını açarak 21 Haziran tarihinde bu merkezlerde yaşanan durumları öğrencilerden söylemelerini istemiştir.

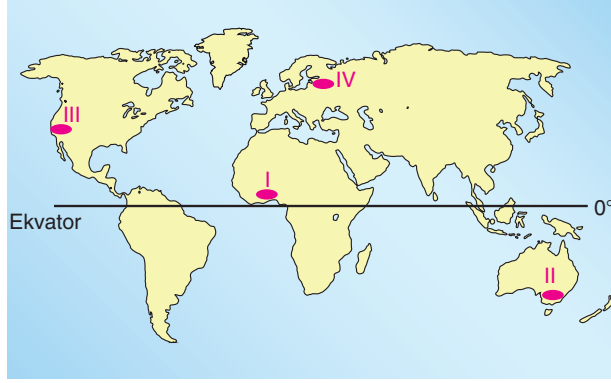


Buna göre hangi öğrencinin verdiği bilgi yanlıştır?

- A) **Ali:** En uzun gündüz süresi II numaralı merkezde yaşanır.
- B) **Özlem:** Tüm merkezlere Güneş ışınları yıl içindeki en büyük açıyla gelmiştir.
- C) **Hamit:** IV ve V numaralı merkezlerde gece süresi diğer merkezlerden daha uzundur.
- D) **Ayşe:** III numaralı merkezde Güneş'in doğuşu ile batışı arasında geçen süre I. merkezden daha kısadır.
- E) **Kaan:** En uzun gölge boyu II numaralı merkezde ölçülür.



4. Yaz mevsiminin sıcak ve kurak geçtiği bölgelerde orman yangını oluşma riski daha yüksektir.



Buna göre haritada numaralandırılmış bölgelerden hangilerinde orman yangınlarının oluşma riski daha yüksektir?

- A) I ve II B) I ve III C) II ve III
D) II ve IV E) III ve IV

5. Türkiye’de,

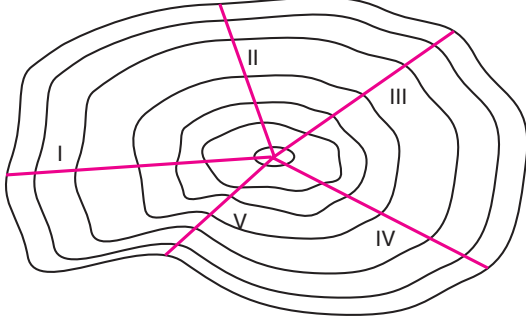
- çeşitli tarım ürünlerinin yetiştirilmesi,
- akarsu rejimlerinin farklılık göstermesi,
- bitki örtüsünün farklılık göstermesi

durumlarının ortaya çıkması aşağıdakilerden hangisini kanıtlar?

- A) Yüksek ve engebeli olduğunu
B) Orta kuşakta bulunduğunu
C) Çeşitli iklim özelliklerinin görüldüğünü
D) Jeolojik yapısının farklı olduğunu
E) Genç oluşumlu bir ülke olduğunu

1. Bu testte 5 soru vardır.
2. Cevaplarınızı, cevap kâğıdının Coğrafya Testi için ayrılan kısmına işaretleyiniz.

1.



Rüzgârın hızını etkileyen faktörler dikkate alındığında basınç farkları eşit kabul edilirse yukarıdaki izohips haritasında verilen doğrultuların hangisinde rüzgârın şiddeti **daha fazladır**?

- A) I B) II C) III D) IV E) V

2. Doğal özelliklere göre belirlenen bölge sınırları uzun zaman diliminde değişmezken beşeri ve ekonomik özelliklere göre belirlenen bölge sınırları kısa zaman dilimi içerisinde değişebilir.

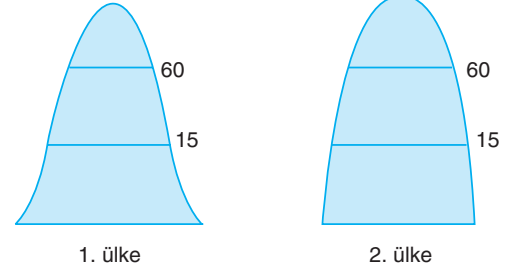
Buna göre;

- Akdeniz iklim bölgesi,
- İç Anadolu kuru tarım bölgesi,
- Erzurum-Kars plato bölgesi,
- İstanbul serbest ticaret bölgesi

türlerinin hangilerinin sınırları daha kısa sürede değişir?

- A) I ve II B) I ve III C) II ve III
D) II ve IV E) III ve IV

3. Aşağıda iki farklı ülkenin günümüzdeki nüfus piramitleri verilmiştir.



1. ülke

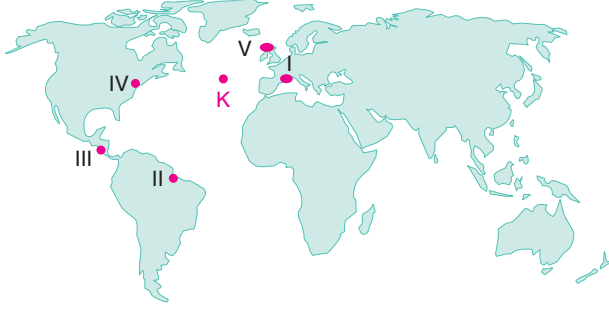
2. ülke

Verilen nüfus piramitleri incelendiğinde bu iki ülkede aşağıdakilerden hangisinin benzer olduğu söylenebilir?

- Nüfus artış hızı
- Çocuk nüfus oranı
- Yüz ölçümleri
- Çalışan nüfusun sektörel dağılımı
- Nüfus miktarları



4. Aşağıdaki haritada işaretlenmiş K merkezinde bir deprem meydana gelmiştir.



Bu deprem sonucunda oluşacak bir tsunamiden haritada numaralanmış merkezlerin hangisi daha az etkilenir?

- A) I B) II C) III D) IV E) V

5. Türkiye'ye ait yıllık ortalama izoterm haritasına bakıldığında yaklaşık aynı enlem üzerinde yer alan Çanakkale, Ankara ve Erzurum'da aynı anda ölçülen sıcaklıkların farklı olduğu gözlenmiştir.

Buna göre aşağıdakilerden hangisi bu farklılığın nedenleri arasında gösterilemez?

- A) Denizellik
B) Karasallık
C) Yükselti
D) Nemlilik
E) Güneş ışınlarının geliş açısı

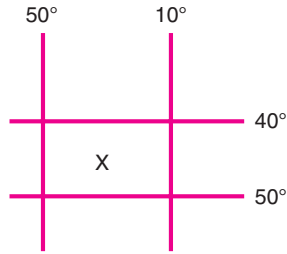
1. Bu testte 5 soru vardır.
2. Cevaplarınızı, cevap kâğıdının Coğrafya Testi için ayrılan kısmına işaretleyiniz.

1.
 - Trabzon limanından hareket eden bir yük gemisi Hindistan'ın Kalküta limanına ürün götürmektedir.
 - Rotterdam limanından hareket eden bir yük gemisi de Hindistan'ın Kalküta limanına ürün götürmektedir.

Buna göre bu iki geminin aşağıdaki boğaz ya da kanallardan hangisinde karşılaşması beklenir?

- A) Cebelitarık Boğazı
- B) İstanbul Boğazı
- C) Süveyş Kanalı
- D) Korint Kanalı
- E) Malakka Boğazı

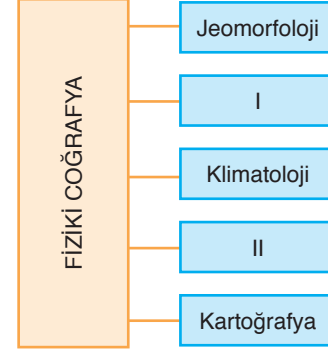
2.



Yukarıda koordinatı verilen X bölgesinden hangi yönde ilerlersek başlangıç paraleli ve meridyenin kesiştiği noktaya ulaşırız?

- A) Kuzeybatı
- B) Kuzeydoğu
- C) Güneybatı
- D) Güneydoğu
- E) Kuzey

3. Aşağıdaki kavram haritasında Fiziki Coğrafyanın bazı alt dalları gösterilmiştir.



Bu kavram haritasında numaralandırılarak boş bırakılan yerlere aşağıdakilerden hangisi getirilmelidir?

- | I | II |
|----------------------|-------------------|
| A) Biyocoğrafya | Nüfus Coğrafyası |
| B) Hidroğrafya | Biyocoğrafya |
| C) Siyasi Coğrafya | Tarım Coğrafyası |
| D) Biyocoğrafya | Kültürel Coğrafya |
| E) Turizm Coğrafyası | Siyasi Coğrafya |



4. Levhalar yoğunlukları ve ağırlıkları ölçüsünde magmaya batarak veya yüzeye doğru yükselerek bir denge oluşturur. Buna izostatik denge denir. İzostatik dengenin bozulması sonucu yer kabuğunda meydana gelen geniş alanlı yükselme ve alçalma olayına epirojenez denir.

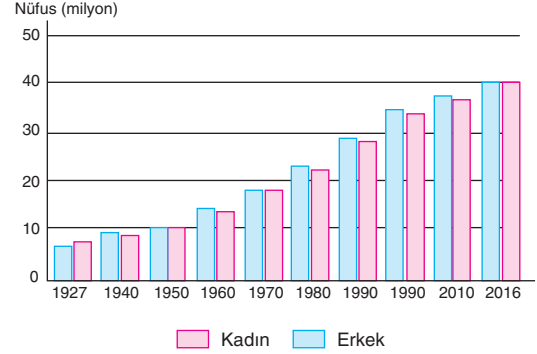
Buna göre;

- I. Anadolu'nun Senozoik zamanda toptan yükselmesi,
- II. Toros ve Karadeniz dağlarının oluşması,
- III. Venedik'in yılda 4 mm alçalması,
- IV. Hint levhasının Avrasya levhasına doğru yaptığı hareket sonucu Himalayalar'ın oluşması

olaylarından hangileri epirojenez örneği verilemez?

- A) I ve II B) I ve III C) II ve III
D) II ve IV E) III ve IV

5. Türkiye'de kadın ve erkek nüfus oranlarının yıllara göre gösterdiği değişiklik aşağıdaki grafikte verilmiştir.

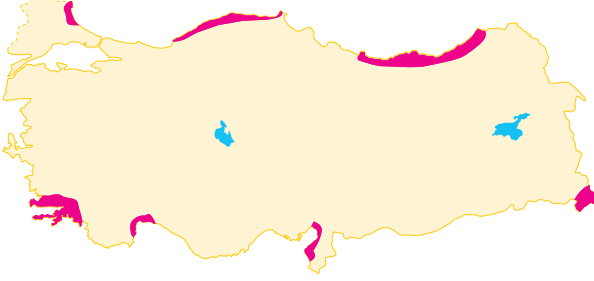


Grafik incelendiğinde 1927 yılında erkek nüfusun az olmasında aşağıdakilerden hangisi daha çok etkili olmuştur?

- A) Doğumlar
- B) Doğal afetler
- C) Göçler
- D) Savaşlar
- E) Ölümler

1. Bu testte 5 soru vardır.
2. Cevaplarınızı, cevap kâğıdının Coğrafya Testi için ayrılan kısmına işaretleyiniz.

1. Aşağıdaki haritada Türkiye'de en fazla yağış alan yerler işaretlenmiştir.



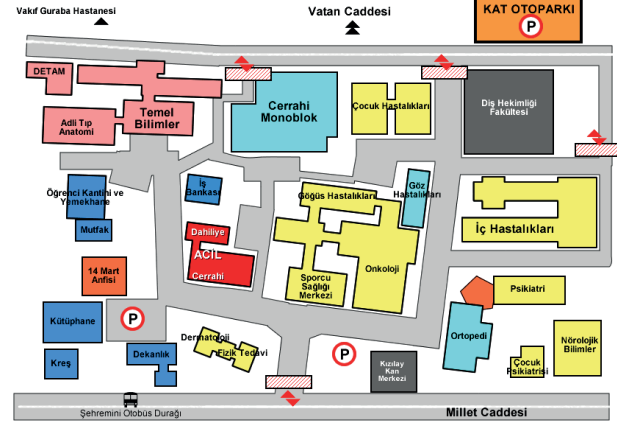
Bu bölgelerde yağışın fazla olmasında,

- yağış rejimi,
- yer şekillerinin uzanış doğrultusu,
- yükselti,
- enlem

faktörlerinden hangileri etkili olmuştur?

- A) I ve II B) I ve III C) II ve III
D) II ve IV E) III ve IV

2. Aşağıda bir yerin krokisi verilmiştir.



Krokide verilenler incelendiğinde aşağıdakilerden hangisi söylenemez?

- Kuş bakışı görünüşe göre çizilmiştir.
- Büyük ölçekli olduğu için ayrıntı fazladır.
- Kabataslak çizilmiştir.
- Harita özelliği göstermez.
- Belirli bir oranda küçültme yapılmamıştır.

3. Bir akarsuyun belirli bir kesitinden 1 saniyede geçen su miktarına akım (debi) adı verilir.

Buna göre aşağıda verilenlerden hangisi akarsuyun akımını etkileyen faktörlerden biri değildir?

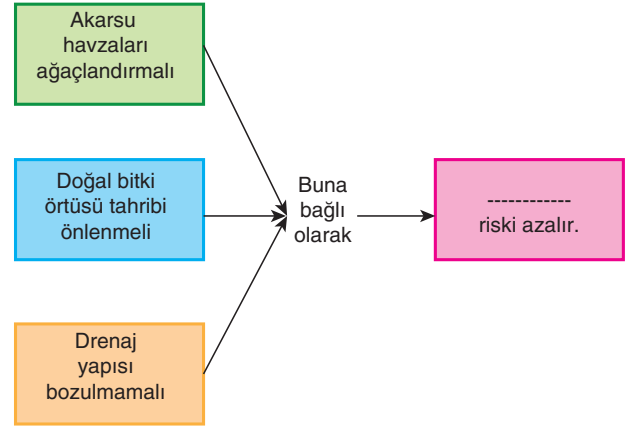
- A) Yağış miktarı
- B) İnsan faaliyetleri
- C) Havzanın genişliği
- D) Bitki örtüsü
- E) Suyun kimyasal özelliği

4. Doğal, beşerî ve ekonomik özellikler bakımından kendi sınırları içerisinde benzerlik gösteren geniş coğrafi birimlere bölge denir.

Buna göre aşağıdakilerden hangisi doğal özelliklerine göre oluşturulan şekilsel bölgelerden biri değildir?

- A) Tundra iklim bölgesi
- B) Göller bölgesi
- C) Platolar bölgesi
- D) Seyrek nüfuslu bölgeler
- E) Dağlık bölgeler

5. Aşağıdaki kavram haritasında bir doğal afeti önleme yolları ile ilgili bazı bilgiler verilmiştir.



Buna göre kavram haritasında boş bırakılan yere aşağıdaki doğal afetlerden hangisi getirilmelidir?

- A) Tsunami
- B) Sel ve taşkın
- C) Deprem
- D) Erozyon
- E) Heyelan